

ESTUDO DO MEIO

RUBRICA:

NOME: _____ DATA: ____/____/____

ESCOLA: _____ INFORMAÇÃO: _____

1 – Pinta de verde os animais invertebrados e de azul os animais vertebrados.

aranha

cobra

polvo

galinha

carapau

mosca

cão


caracol

2 – Assinala com as letras corretas, o revestimento dos animais.

A – pelos B – penas C – escamas D – pele húmida

peru cavalo sardinha urso rã cobra periquito

3 – Liga as imagens dos animais às respetivas classes.



• mamíferos •

• aves •



• peixes •

• répteis •

• insetos •

• anfíbios •

• moluscos •



4 – Liga os animais ao seu tipo de alimentação.




• Carnívoro •



• Herbívoro •



• Omnívoro •





5 – Liga as imagens com setas, de modo a representares uma **cadeia alimentar**.



6 – Classifica as seguintes afirmações em verdadeiras (V) ou falsas (F).

- No solo existem rochas, restos de animais e plantas mortas, água e ar.
- O húmus é composto por restos de animais e plantas em decomposição.
- Um solo fértil é rico em húmus, sais minerais e humidade.
- Os solos férteis não são bons para a agricultura.
- O solo permeável deixa passar a água.
- Os solos arenosos não são permeáveis.
- Os solos muito argilosos são impermeáveis.
- O solo é igual em todo o lado.

7 – Liga as imagens das rochas aos respectivos nomes.



• Calcário

• Mármore

• Granito

• Basalto

• Ardósia



• Argila

8 – Escreve o nome da rocha utilizada na produção do objeto representado.

argila

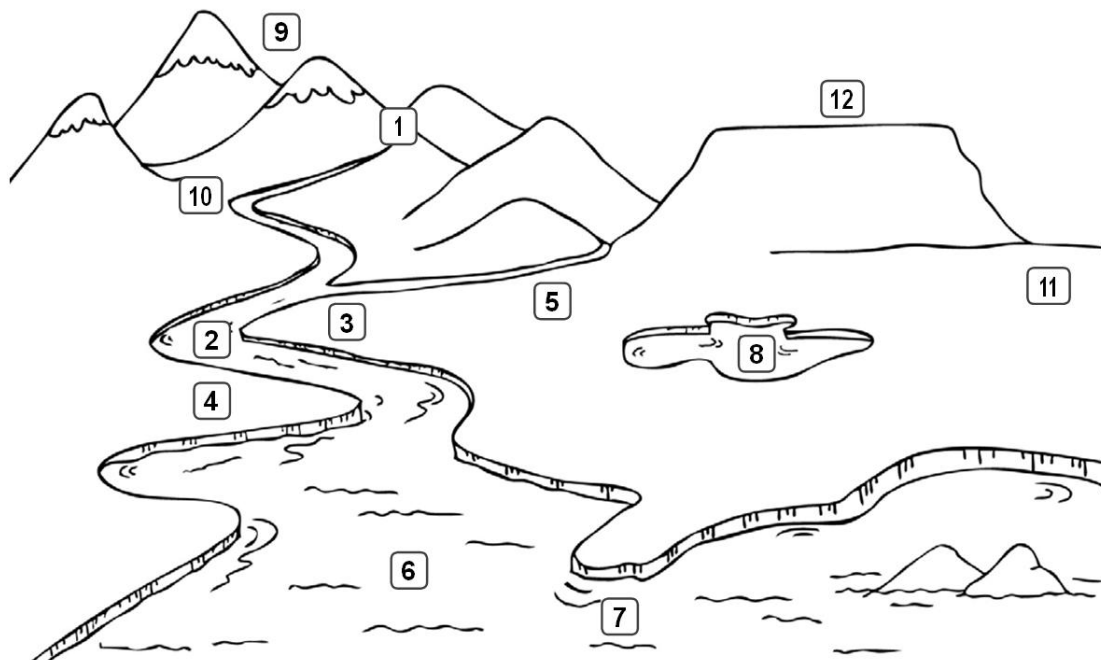
ardósia

mármore



9 – Legendas as formas de relevo e os meios aquáticos representados na imagem com as palavras do quadro.

afluente	mar	lago	serra	vale	planalto	planície
nascente	margem direita	margem esquerda	leito	foz		



- | | | |
|----------|----------|----------|
| 1 _____ | 2 _____ | 3 _____ |
| 4 _____ | 5 _____ | 6 _____ |
| 7 _____ | 8 _____ | 9 _____ |
| 10 _____ | 11 _____ | 12 _____ |

10 – Assinala com X, a zona mais montanhosa de Portugal Continental.

Norte	<input type="checkbox"/>	Centro	<input type="checkbox"/>	Sul	<input type="checkbox"/>
-------	--------------------------	--------	--------------------------	-----	--------------------------

11 – As ilhas dos arquipélagos da Madeira e dos Açores são muito ou pouco montanhosas?

.....

12 – Indica quais os meios aquáticos existentes na tua localidade ou próximo dela e refere a utilidade de cada um.

.....